



Access fun Grade 8–12 quizzes, matric past papers, K53 learner mock tests, and NBT prep!

*All in one easy-to-use app.*

**DOWNLOAD GO STUDY NOW**



Tap on the buttons above to download the app

 [www.gostudy.club](http://www.gostudy.club)



Province of the  
**EASTERN CAPE**  
EDUCATION



**NASIONALE  
SENIORSERTIFIKAAT**

**GRAAD 11**

**NOVEMBER 2023**

**GEOGRAFIE V1**

**PUNTE: 150**

**TYD: 3 uur**

---

Hierdie vraestel bestaan uit 18 bladsye.

---

## INSTRUKSIES EN INLIGTING

1. Hierdie vraestel bestaan uit TWEE AFDELINGS.

AFDELING A:

VRAAG 1: Die Atmosfeer (60)

VRAAG 2: Geomorfologie (60)

AFDELING B:

VRAAG 3: Geografiese Vaardighede en Tegnieke (30)

2. Beantwoord al DRIE vrae.
3. ALLE diagramme is in die VRAESTEL ingesluit.
4. Laat 'n reël op tussen onderafdelings van die vrae wat jy beantwoord.
5. Begin ELKE vraag boaan 'n NUWE bladsy.
6. Nommer die vrae korrek volgens die nommeringstelsel wat in hierdie vraestel gebruik is.
7. MOENIE in die kantlyn van die ANTWOORDEBOEK skryf nie.
8. Teken volledige benoemde diagramme wanneer dit vereis word.
9. Antwoord in VOLSINNE, behalwe as jy moet noem, benoem, identifiseer of lys moet maak.
10. Eenhede van meting MOET in jou finale antwoord aangedui word, byvoorbeeld 1 020 hPa, 14 °C en 45 m.
11. Jy mag 'n nieprogrammeerbare sakrekenaar gebruik.
12. Jy mag 'n vergrootglas gebruik.
13. Skryf netjies en leesbaar.

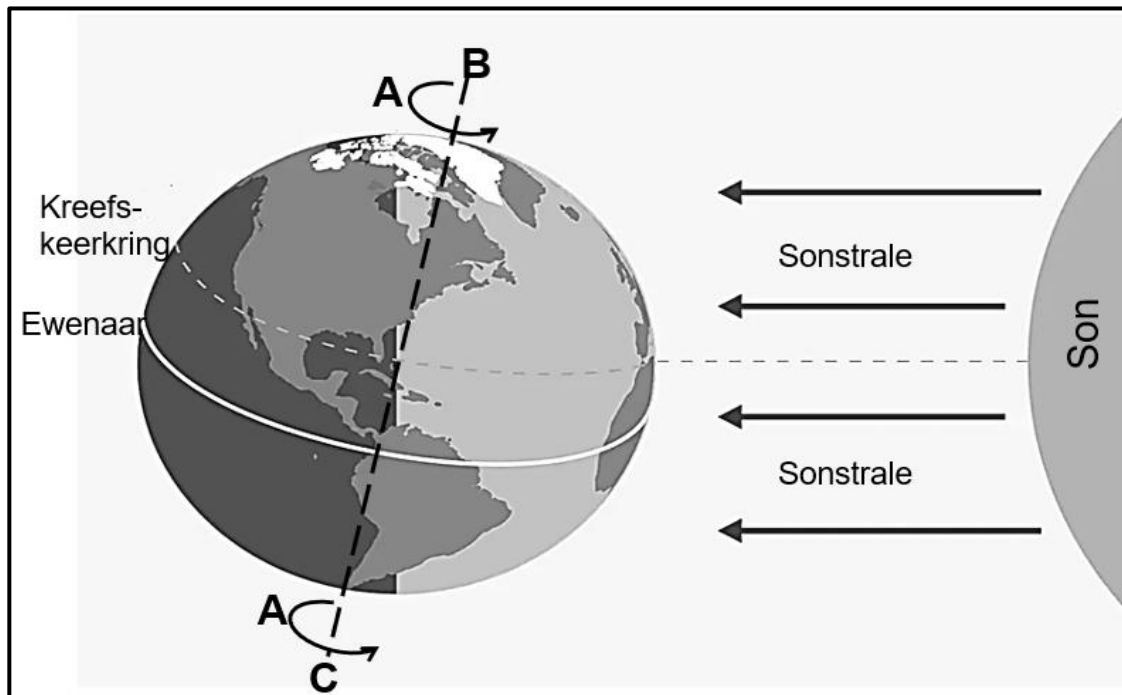
## SPESIFIEKE INSTRUKSIES EN INLIGTING VIR AFDELING B

14. 'n 1 : 50 000 Topografiese kaart (3419 AB CALEDON) en 'n ortofotokaart (3419AB 24 CALEDON) van 'n gedeelte van die gekarteerde gebied word voorsien.
15. Die gebied wat in ROOI/SWART op die topografiese kaart afgebaken is, stel die gebied voor wat deur die ortofotokaart gedek word.
16. Toon ALLE berekeninge. Punte sal hiervoor toegeken word.
17. Jy moet die topografiese kaart en die ortofotokaart aan die einde van hierdie eksamensessie by die toesighouer inhandig.

**AFDELING A: KLIMAAT EN WEER EN GEOMORFOLOGIE****VRAAG 1: DIE ATMOSFEER**

- 1.1 Verskeie opsies word as moontlike antwoorde op die volgende vrae gegee. Kies die antwoord en skryf slegs die letter (A–D) langs die vraagnommers (1.1.1 tot 1.1.8) in die ANTWOORDEBOEK neer, byvoorbeeld 1.1.9 D.

Verwys na die skets hieronder oor die aarde se as om VRAE 1.1.1 tot 1.1.5 te beantwoord.



[Aangepas uit <https://www.spacecentre.nz/resources/faq/solar-system/earth/rotation-speed.html>]

- 1.1.1 Die seisoen wat deur die suidelike halfmond ervaar word is ...

- A herfs.
- B winter.
- C lente.
- D somer.

- 1.1.2 Die pyltjies by **A** wys die ... van die aarde.

- A sirkel van verligting
- B omwenteling
- C aswenteling
- D sirkel van parallelisme

1.1.3 Die skets illustreer 'n ... situasie, met die dae ... as die nag by die ewenaar.

- (i) sonstilstand
- (ii) eweninge
- (iii) langer
- (iv) gelyk

- A (i); (iii)
- B (i); (iv)
- C (ii); (iii)
- D (ii); (iv)

1.1.4 Lyn **B–C** verteenwoordig die ... van die aarde se as en is ... dwarsdeur die jaar.

- (i) dinamika
- (ii) parallelisme
- (iii) dieselfde
- (iv) verskillend

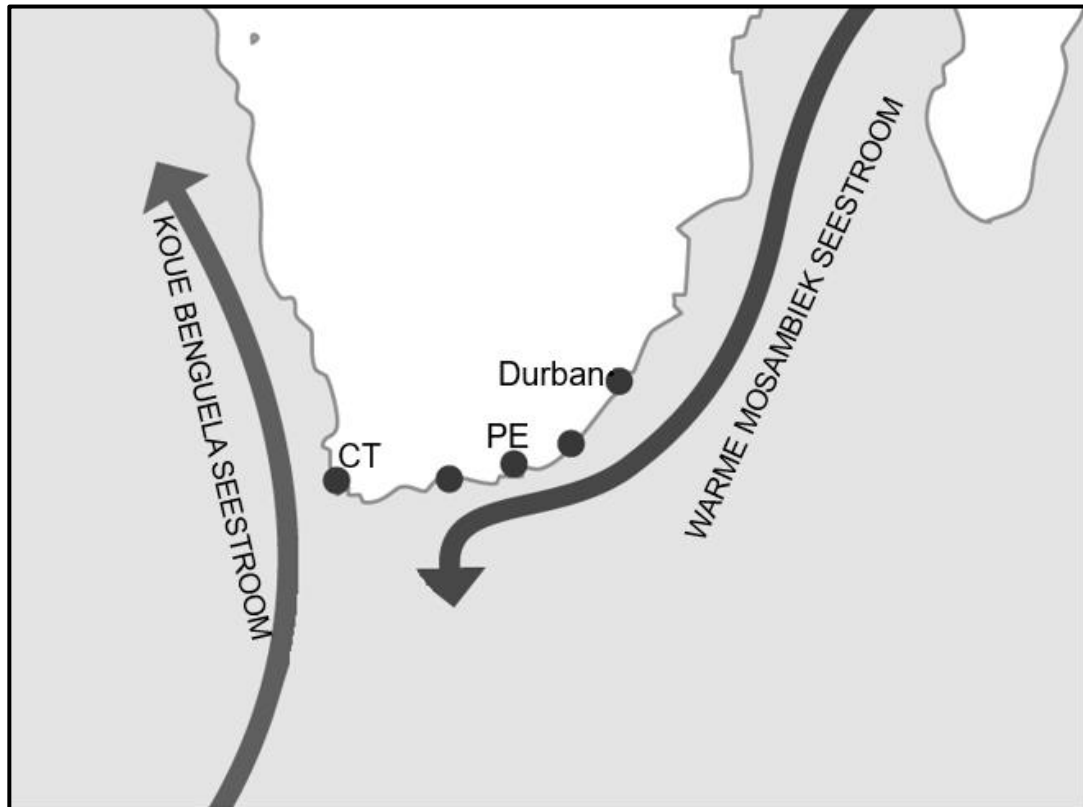
- A (i); (iii)
- B (i); (iv)
- C (ii); (iii)
- D (ii); (iv)

1.1.5 Die hoeveelheid insolasie wat die aarde ontvang, hang af van ... en ...

- (i) breedtegraad
- (ii) aswenteling
- (iii) seisoene
- (iv) omwenteling

- A (i); (iii)
- B (i); (iv)
- C (ii); (iii)
- D (ii); (iv)

Verwys na die skets hieronder oor seestrome om VRAE 1.1.6 tot 1.1.8 te beantwoord.



[Aangepas uit <https://www.google.com/search?q=Warm+Mozambique+current&tbm=>]

1.1.6 Die seestrome in die skets speel 'n gekombineerde rol in die vorming van weerpatrone deur ...

- A temperature te laat styg.
- B 'n matige invloed op temperature te het.
- C temperature te laat daal.
- D deur meer reënval te veroorsaak.

1.1.7 Die koue Benguela-seestroom dra ... lug vanaf die pole na die ... sones oor.

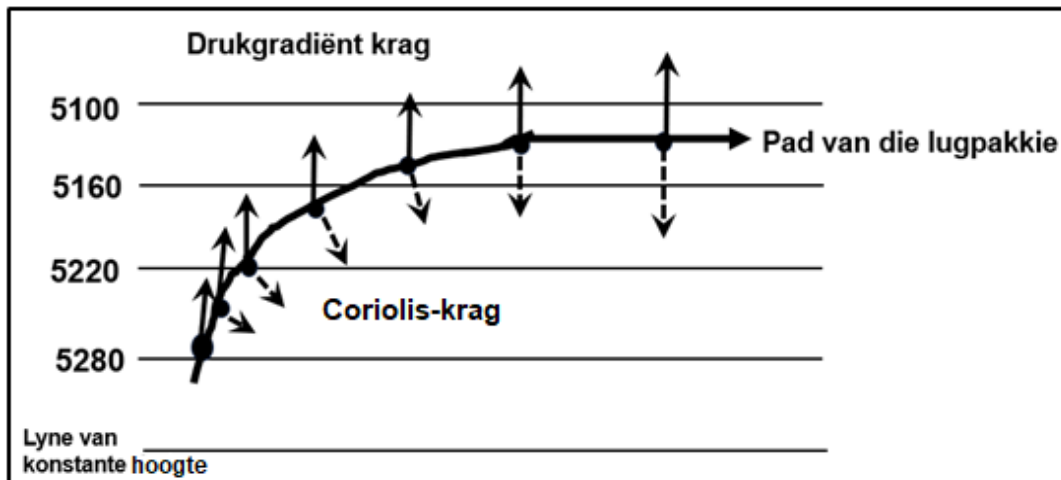
- A koue; gematigde
- B warm; kus
- C koue; kus
- D warm; woestyn

1.1.8 Warm seestrome beweeg van die ... na die ...

- A pole; ewenaar.
- B wes; pole.
- C oos; ewenaar.
- D ewenaar; pole.

(8 x 1) (8)

- 1.2 Verwys na die skets oor die rigting en spoed van 'n wind. Kies die korrekte woorde(e)/nommer(s) van die wat tussen hakies gegee word om die volgende sinne te voltooi. Skryf slegs die woord(e)/nommer(s) langs die vraagnommers (1.2.1 tot 1.2.7) in die ANTWOORDEBOEK neer.



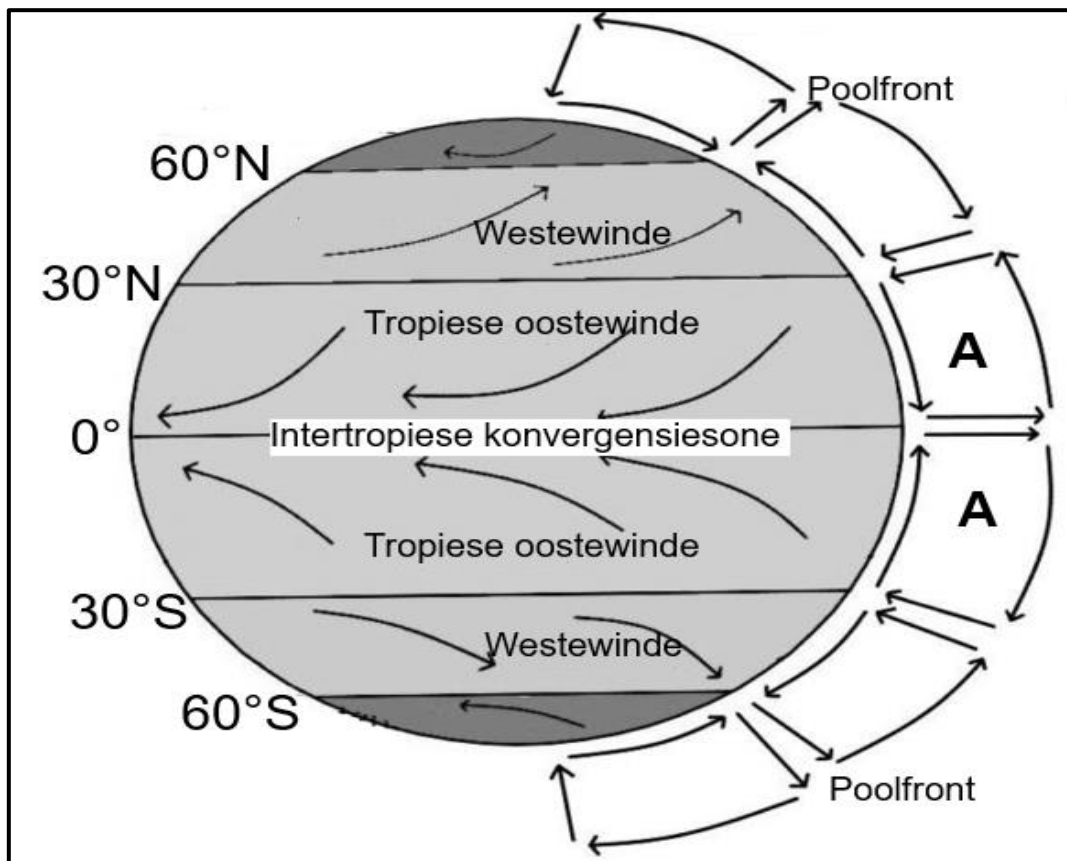
[Bron: Eksaminator se eie skets]

- 1.2.1 Die lyne in die skets wat plekke van gelyke druk vertoon, staan as (kontoere/isobare) bekend.
- 1.2.2 Die hoogdruk word deur (5280/5100) hektopascal verteenwoordig.
- 1.2.3 (Coriolis/Drukgradiënt) -krag bepaal die spoed van die wind.
- 1.2.4 Winde deflekteer of verander van rigting as gevolg van (Drukgradiënt/Coriolis) -krag.
- 1.2.5 Die rigting van die wind in die skets hierbo verteenwoordig toestand in die (suidelike/noordelike) halfgrond.
- 1.2.6 Hoe groter die verskil in lugdruk tussen hoog- en laagdrukselle, hoe (sterker/swakker) die wind.
- 1.2.7 Geostrofies (balans/vloei) is 'n teoretiese wind wat parallel met die isobare waai.

(7 x 1) (7)



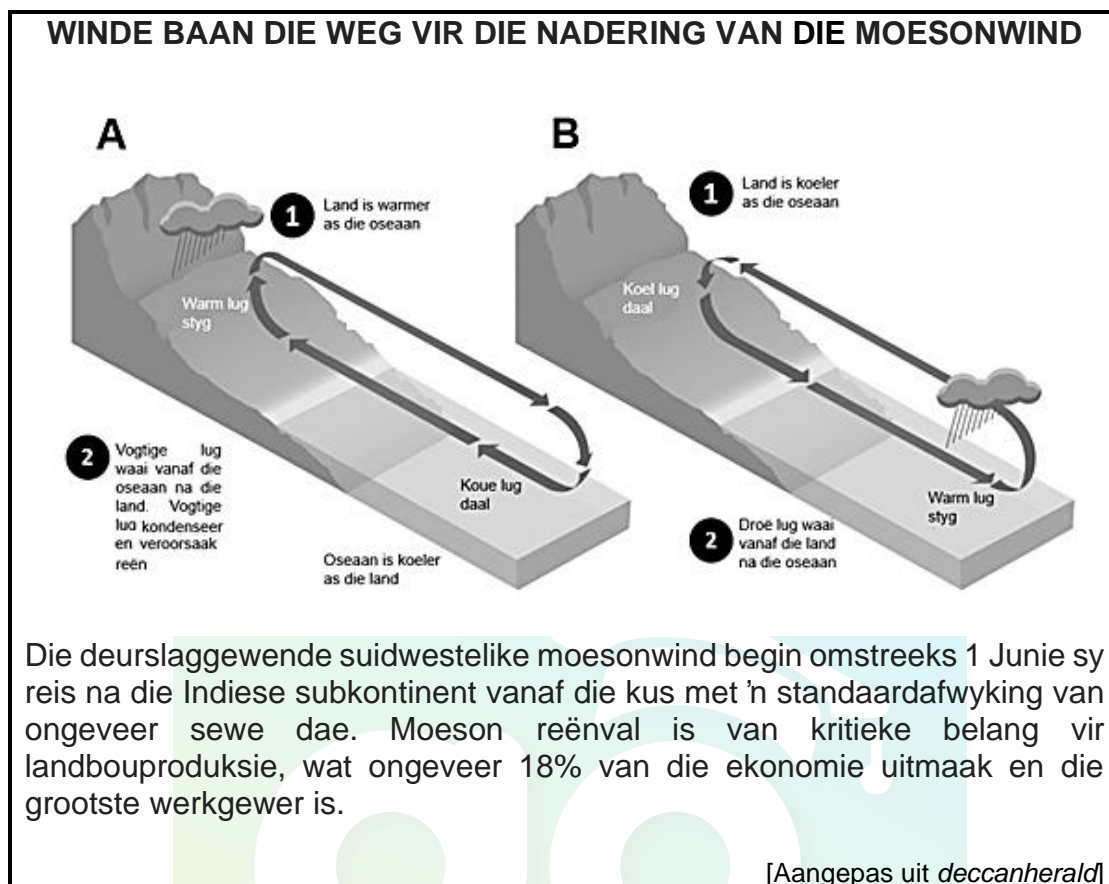
1.3 Verwys na die skets oor globale lugsirkulasie.



- |       |  |         |     |
|-------|--|---------|-----|
| 1.3.1 | Wat is die <i>intertropiese konvergensiesone</i> ?   | (1 x 2) | (2) |
| 1.3.2 | Noem die globale sel by <b>A</b> .   | (1 x 1) | (1) |
| 1.3.3 | Hoe vorm die poolfront?  | (2 x 2) | (4) |
| 1.3.4 | In 'n paragraaf van ongeveer AGT reëls verduidelik die beweging van die tropiese oostewinde en westewinde en die impak daarvan op die weer in streke waar hulle voorkom. | (4 x 2) | (8) |



1.4 Verwys na die skets en uittreksel van 'n moesonwind.



- 1.4.1 Pas skets **A** met óf 'n somer- óf winter moesonwind oor die subkontinent van Indië. (1 x 1) (1)
- 1.4.2 Identifiseer die rigting van die moesonwind, volgens die uittreksel, wat in skets **A** waai. (1 x 1) (1)
- 1.4.3 Waarom bring hierdie wind wat jy in VRAAG 1.4.2 geïdentifiseer het, swaar reënval na die Indiese subkontinent? (1 x 1) (1)
- 1.4.4 Wat sal die positiewe fisiese (natuurlike) impak van hierdie swaar reënval op die Indiese subkontinent wees? (2 x 2) (4)

Verwys na skets **B**.

- 1.4.5 Beskryf die weerstoestande wat oor die Indiese subkontinent in skets **B** heers. (2 x 1) (2)
- 1.4.6 Verduidelik die negatiewe ekonomiese impak wat die subkontinent van Indië sal ervaar as die toestande in skets **B** verleng word. (3 x 2) (6)

## 1.5 Verwys na die kaart en uittreksel oor verwoestyning.



Stygende temperature en onbehoorlike rampbestuur het tot verhoogde verwoestyning syfers regoor die wêreld gelei. Tesame met droogtes en 'n daling in landbouproduktiwiteit, kan die gevolge van verwoestyning nie geïgnoreer word nie. Om sulke hoë koerse van grondagteruitgang wat baie streke van die wêreld ervaar, te bekamp, is effektiewe risikobestuur nodig. Verwoestyning is ook 'n groot kwessie in Afrika.

Byvoorbeeld, swak oeste en 'n toename in onvrugbare grond teister steeds die inwoners van Tanzanië. In Mauritanië het 'n daling in reënval landbouproduksie vererger en het baie boere laat sukkel om genoeg kos te kweek om te eet of te verkoop. Verwoestyning kan ook verlies aan biodiversiteit en verlies aan \*waterdraers veroorsaak. In Afrika, met byna 45% van die landmassa wat verwoestyning ervaar, staan baie mense selfs groter risiko's in die gesig. In Mauritanië het die haglike situasie voedselonsekerheid, behuisingsprobleme en bevolkingsgesondheid laat afneem. Dorpenaars probeer migreer namate hul huise onder die sand begrawe word, benewens 'n gebrek aan waterbronne en inkomste.

\* 'n Rots gedeelte of sediment wat met grondwater versadig is.

[Bron: <https://earth.org/desertification-in-afrika/>]

- |       |  |         |             |
|-------|--|---------|-------------|
| 1.5.1 | Wat is verwoestyning?  | (1 x 2) | (2)         |
| 1.5.2 | Identifiseer die groot woestyn op die kaart.   | (1 x 1) | (1)         |
| 1.5.3 | Noem EEN negatiewe fisiese (natuurlike) impak, volgens die uittreksel, van verwoestyning.                      | (1 x 1) | (1)         |
| 1.5.4 | Waarom word die Sahel as 'n hoërisikogebied beskou?  | (1 x 1) | (1)         |
| 1.5.5 | Verduidelik die negatiewe sosiale impak wat 'n daling in landbouproduktiwiteit op die mense van Afrika sal hê. | (2 x 2) | (4)         |
| 1.5.6 | Stel maatreëls voor wat boere kan implementeer om die verspreiding van verwoestyning te verminder.             | (3 x 2) | (6)         |
|       |  |         | <b>[60]</b> |

**VRAAG 2: GEOMORFOLOGIE**

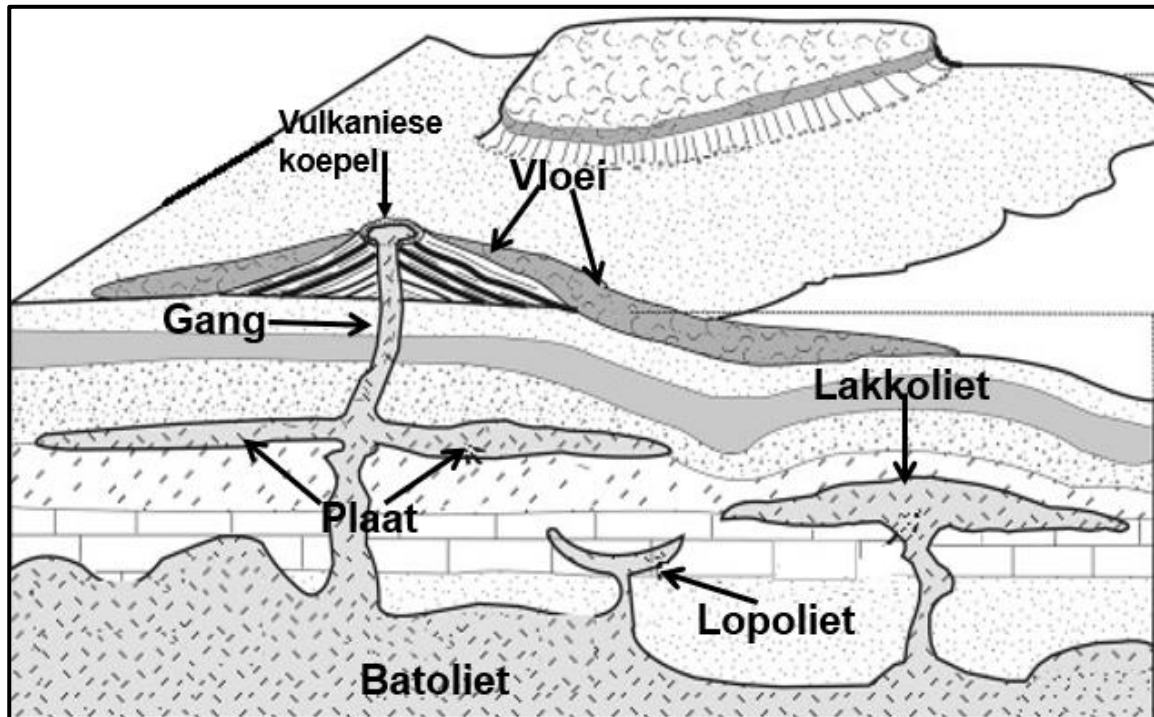
2.1 Voltooi die stellings in KOLOM A met die opsies in KOLOM B. Skryf slegs **X** of **Y** langs vraagnommers (2.1.1 tot 2.1.8) in die ANTWOORDEBOEK neer, byvoorbeeld 2.1.9 Y.

<b>KOLOM A</b>		<b>KOLOM B</b>	
2.1.1	Vorm uit lae lawa wat horisontaal op die aardoppervlak vloei	<b>X</b>	heuvelagtige landskap
		<b>Y</b>	basaltiese plato
2.1.2	Tipe verwerking wat veroorsaak dat blootgestelde stollingsgesteentes afskil	<b>X</b>	plaatvloei
		<b>Y</b>	afskilfering
2.1.3	Die duikhelling is na buite, en die eskarphelling wys na die binnekant	<b>X</b>	cuesta koepel
		<b>Y</b>	cuesta bekken
2.1.4	Die reliëfstreek wat tussen die plato en kusvlaktes lê	<b>X</b>	plato hellings
		<b>Y</b>	groot eskarp
2.1.5	Bo-grond word versadig en gly op die bevrore grond	<b>X</b>	aardvloei
		<b>Y</b>	solifluksie
2.1.6	Vinnige beweging van materiaal teen 'n helling sal deur ... verhoog word	<b>X</b>	steil hellings
		<b>Y</b>	digte plantegroei
2.1.7	Asimmetriese rug met 'n geleidelike duikhelling tussen 10–25	<b>X</b>	hogsback
		<b>Y</b>	cuesta
2.1.8	Vorm vanuit harde rots wat stadig verweer	<b>X</b>	duikhelling
		<b>Y</b>	eskarphelling

(8 x 1)

(8)

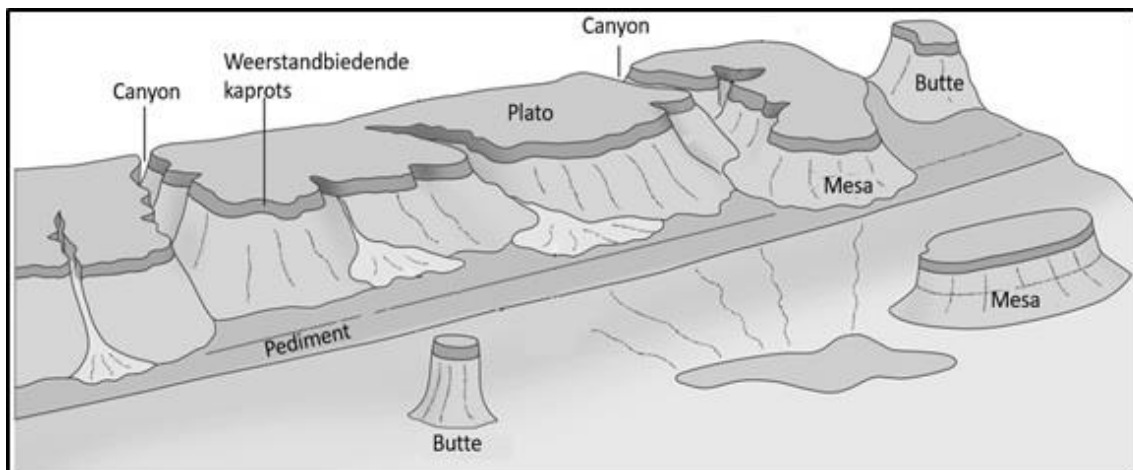
- 2.2 Verwys na die skets oor intrusiewe landvorme. Kies die korrekte landvorm uit die skets wat die stelling hieronder na verwys. Skryf slegs die landvorm langs by die vraagnommers (2.2.1 tot 2.2.7) in die ANTWOORDEBOEK neer.



[Bron: <https://www.google.com/search?q=igneous+intrusions+diagram>]

- 2.2.1 Die grootste van alle intrusiewe landvorme
- 2.2.2 'n Vertikale intrusie van stollingsgesteentes wat 'n muur vorm
- 2.2.3 Wanneer magma aan die aardoppervlak blootgestel word
- 2.2.4 Stollingsintrusie wat vorm wanneer strata opwaarts gedwing word
- 2.2.5 'n Horisontale intrusie van stollingsgesteentes wat 'n plaat vorm
- 2.2.6 Stollingsintrusie wat vorm wanneer sedimentêre strata 'n bekken veroorsaak
- 2.2.7 'n Driehoekvormige heuwel uit uitbarstingsmateriaal gevorm (7 x 1) (7)

2.3 Verwys na die skets oor topografie wat met horisontaal gelaagde gesteentes verband hou.



[Bron: <https://www.google.com/search?q=topography+associated+with+horizontally>]

- 2.3.1 Lewer kommentaar op die hoogte van die topografie wat in die skets voorkom. (1 x 1) (1)
- 2.3.2 Verskaf bewyse uit die skets vir jou antwoord op VRAAG 2.3.1. (1 x 1) (1)
- 2.3.3 Die topografie hierbo is (eenvormig/nie eenvormig nie) bestand teen erosie. (1 x 1) (1)
- 2.3.4 Hoe vorm canyons? (2 x 2) (4)
- 2.3.5 Verduidelik hoe die elemente van die Karoolandskap wat in die skets sigbaar is, uit 'n canyonlandschap sal vorm. (2 x 2) (4)
- 2.3.6 Hoe kan die topografie in die skets wat verband hou met horisontaal gelaagde gesteentes ekonomies deur mense benut word? (2 x 2) (4)



2.4 Verwys na die foto's oor topografie wat met massiewe stollingsgesteentes verband hou.

**A**



**B**



- 2.4.1 Identifiseer die landvorme wat met massiewe stollingsgesteentes in foto **A** en foto **B** verband hou. (2 x 1) (2)
- 2.4.2 Noem EEN kenmerk van massiewe stollingsgesteentes wat in die foto sigbaar is. (1 x 1) (1)
- 2.4.3 Uit watter stollingsintrusie ontstaan die landvorme op foto **A** en foto **B**? (2 x 1) (2)
- 2.4.4 Hoe is hierdie landvorme op foto **A** en foto **B** aan die aardoppervlak blootgestel? (1 x 2) (2)
- 2.4.5 In 'n paragraaf van ongeveer AGT reëls verduidelik die rol van verwerking in die vorming van hierdie twee landvorme. (4 x 2) (8)

2.5 Verwys na die foto en uittreksel op 'n grondverskuiwing.



[Bron: google images]

In eThekweni het kombinasies van hellende grond, water en klei spore van verwoesting tydens die onlangse vloede gelaat.

Sommige artikels het voorgestel dat die katastrofes in Durban en die groter eThekweni-streek van Suid-Afrika ná onlangse vloede weens klimaatsverandering en wanadministrasie te wyte is. Alhoewel hierdie faktore 'n rol speel, is die feit dat grondverskuiwings plaasgevind het, geen verrassing nie, as die geologie van die gebied in ag geneem word.

eThekweni is 'n kusmetropool wat gekenmerk word deur heuwelagtige terrein wat deur verskeie groot riviere soos die Umgeni, Mlazi en Mbokodweni gedreineer word. Die streek is subtropies, maar onlangse reën was abnormaal relatief tot onlangse rekords en het verskeie grondverskuiwings tot gevolg gehad. Die negatiewe sosiale, ekonomiese en fisiese impak op die streek was rampspoedig.

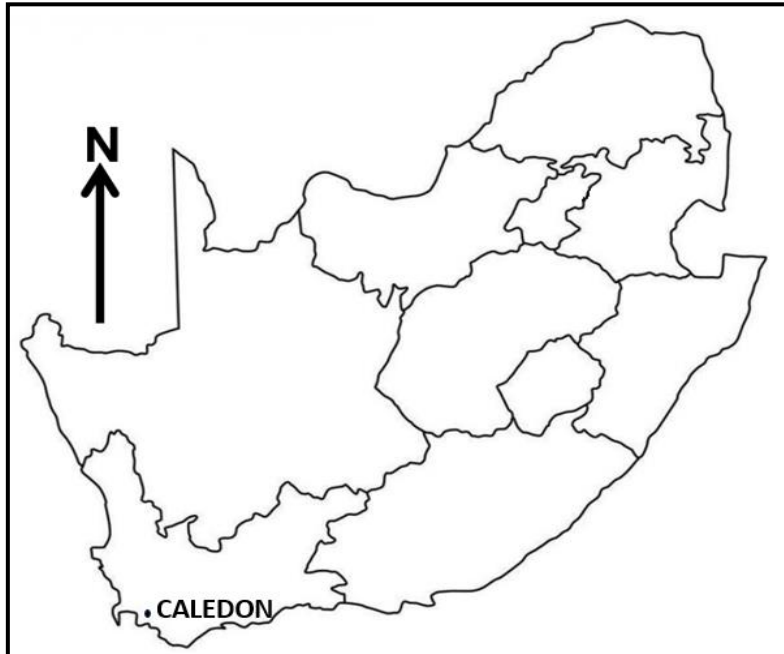
[Aangepas uit 'n artikel deur Charles Macrobert]

- |       |  |         |     |
|-------|--|---------|-----|
| 2.5.1 | Hoe beeld die foto 'n grondverskuiwing uit?  | (1 x 1) | (1) |
| 2.5.2 | Volgens die artikel, wat is die hooforsaak van grondverskuiwings in die groter eThekweni-streek.                         | (1 x 1) | (1) |
| 2.5.3 | Watter klimaatsbewyse in die artikel dui daarop dat die eThekweni-streek hoë reënval ontvang?                            | (1 x 1) | (1) |
| 2.5.4 | Watter rol het swaar reënval in die ontwikkeling van grondverskuiwings gespeel?  | (2 x 2) | (4) |
| 2.5.5 | Gee rekeningskap vir die negatiewe sosiale impak van grondverskuiwings in die streek.                                    | (2 x 2) | (4) |
| 2.5.6 | Stel strategieë voor wat die munisipaliteit van eThekweni kan gebruik om die gevolge van grondverskuiwings te verminder. | (2 x 2) | (4) |

[60]

**TOTAAL AFDELING A: 120**



**AFDELING B****VRAAG 3: GEOGRAFIESE VAARDIGHEDE EN TEGNIEKE****ALGEMENE INLIGTING OOR CALEDON**

Koördinate:  $34^{\circ} 13' S$  ;  $19^{\circ} 25' O$

Caledon het 'n Mediterreense klimaat van warm, droë somers en koel, nat winters. Temperature word verander deur sy nabyheid aan die Suid-Atlantiese Oseaan, net oor die Kleinrivierberge in die suide.

[Bron: [https://en.wikipedia.org/wiki/Calendon,\\_Western\\_Kaap](https://en.wikipedia.org/wiki/Calendon,_Western_Kaap)]

Die volgende Engelse terme en hul Afrikaanse vertalings word op die topografiese en ortofotokaarte getoon:

**ENGELS**

Caledon Casino and Spa Resort  
Nature Reserve  
Show Grounds  
Hot Spring  
Sewage Disposal Works  
Silo  
Marshes and vlei  
Diggings

**AFRIKAANS**

Caledon Casino en Spa-oord  
Natuurreservaat  
Skougronde  
Warmwaterbronne  
Rioolverwerkingsaanleg  
Graansuier  
Moeras en vlei  
Uitgrawings

## 3.1 KAARTWERKVAARDIGHEDE EN BEREKENINGE

3.1.1 Die topografiese kaartnommer 3419 verwys na die ...

- A lengte- en breedtegraad.  
 B breedtegraad en lengtegraad.  
 C kontoerlyn en isobaar.  
 D lengtegraad- en kontoerlyne. (1 x 1) (1)

3.1.2 Die skaal van die ortofotokaart is ... keer groter as die skaal van die topografiese kaart.

- A 5  
 B 10  
 C 20  
 D 40 (1 x 1) (1)

3.1.3 Die lengte (L) van die hospitaal (Area 2) op die ortofotokaart is ... sentimeter (cm).

- A 30  
 B 13  
 C 3  
 D 1,4 (1 x 1) (1)

3.1.4 Die breedte (B) van die hospitaal (Area 2) op die ortofotokaart is ... sentimeter (cm).

- A 0,3  
 B 13  
 C 3,3  
 D 1,3 (1 x 1) (1)

3.1.5 Gebruik die antwoorde van VRAE 3.1.3 en 3.1.4 en bereken die oppervlakte van die hospitaal 2 in vierkante meter (m<sup>2</sup>). Toon ALLE berekeninge. Punte sal vir berekeninge toegeken word.Formule: **Oppervlakte = lengte (L) x breedte (B)** (3 x 1) (3)

3.1.6 Bereken die magnetiese deklinasie van Caledon vir 2023. Gebruik die inligting en stappe hieronder.

Verskil in jare: 22 jaar

Gemiddelde jaarlikse verandering: 4' weswaarts

Totale verandering: \_\_\_\_\_

Magnetiese deklinasie vir 2023: \_\_\_\_\_

(3 x 1) (3)

### 3.2 KAART-INTERPRETASIE

- 3.2.1 Watter tipe klimaat word deur Caledon ervaar? Gee 'n rede vir jou antwoord. (1 + 1) (2)

Verwys na die topografiese en ortofotokaarte.

- 3.2.2 Die letter **3** op die ortofotokaart dui 'n ... aan.

- A rioolbehandeling-aanleg
- B reservoir
- C silo
- D kragstasie (1 x 1) (1)

- 3.2.3 Reënval oor die gekarteerde gebied is seisoenaal. Gee TWEE bewysstukke, vanaf die kaart in blokke **E1/2**, van maatreëls wat boere gebruik om die probleem van watertekort in tye van lae reënval te oorkom. (2 x 1) (2)

- 3.2.4 Die stadsraad van Caledon het besluit om die ontwikkelingsvlak van hierdie gebied deur toerisme te probeer verbeter. Verduidelik hoe die raad hierdie gebied sal bevorder deur bewyse uit blokke **D3/4** en **E3/4** te gebruik. (2 x 2) (4)

Verwys na **2** in blok **E2** op die ortofotokaart.

- 3.2.5 Die belangrikste ekonomiese aktiwiteit by **2** in blok **E2** op die ortofotokaart is (sekondêr / tersiêr). (1 x 1) (1)

- 3.2.6 Verduidelik waarom area **2** geskik was vir die ontwikkeling van die ekonomiese aktiwiteit wat in VRAAG 3.2.5 geïdentifiseer is. (1 x 2) (2)

### 3.3 GEOGRAFIESE INLIGTINGSTELSELS (GIS)

3.3.1 Die topografiese kaart is 'n voorbeeld van ... data.

- |   |           |         |     |
|---|-----------|---------|-----|
| A | raster    |         |     |
| B | pixel     |         |     |
| C | vektor    |         |     |
| D | attribuut | (1 x 1) | (1) |

Bestudeer die foto van die pad in blok **B5** wat opwaarts na die Basil Newmark-reservoir gaan.

3.3.2 Definieer *ruimtelike data*. (1 x 1) (1)

3.3.3 Watter tipe ruimtelike voorwerp (punt, lyn of veelhoek) is die pad? (1 x 1) (1)

3.3.4 Noem EEN attribuut wat vir die sekondêre pad opgeneem kan word. (1 x 1) (1)

3.3.5 As gevolg van die toename in Caledon se bevolking, neem die water in die Badsrivier by **G** af in kwaliteit.

- |     |   |         |     |
|-----|---|---------|-----|
| (a) | Noem TWEE maniere waarop data ingesamel kan word om 'n omgewingsimpakstudie rondom die rivier te doen.            | (2 x 1) | (2) |
| (b) | Verduidelik hoe die versamelde data gebruik kan word om die betrokke rivier teen verdere agteruitgang te beskerm. | (1 x 2) | (2) |

**TOTALE AFDELING B: 30**  
**GROOTTOTAAL: 150**