



Access fun Grade 8–12 quizzes, matric past papers, K53 learner mock tests, and NBT prep!

All in one easy-to-use app.

DOWNLOAD GO STUDY NOW



Tap on the buttons above to download the app

 www.gostudy.club



basic education

Department:
Basic Education
REPUBLIC OF SOUTH AFRICA

SENIOR SERTIFIKAAT/ NASIONALE SENIOR SERTIFIKAAT

GRADE 12

EKONOMIE V2

NOVEMBER 2020

PUNTE: 150

TYD: 2 uur

Hierdie vraestel bestaan uit 12 bladsye.

INSTRUKSIES EN INLIGTING

1. Beantwoord VIER vrae soos volg in die ANTWOORDEBOEK:

AFDELING A: VERPLIGTEND
AFDELING B: Beantwoord TWEE van die drie vrae.
AFDELING C: Beantwoord EEN van die twee vrae.
2. Beantwoord slegs die vereiste getal vrae. Addisionele antwoorde sal NIE nagesien word NIE.
3. Nommer die antwoorde korrek volgens die nommeringstelsel wat in hierdie vraestel gebruik is.
4. Lees die vrae aandagtig deur.
5. Begin ELKE vraag op 'n NUWE bladsy.
6. Laat 2–3 reëls tussen onderafdelings van vrae oop.
7. Beantwoord die vrae in volsinne en maak seker dat die formaat, inhoud en konteks van jou antwoorde aan die kognitiewe vereistes van die vrae voldoen.
8. Gebruik slegs swart of blou ink.
9. Jy mag 'n nieprogrammeerbare sakrekenaar gebruik.
10. Skryf netjies en leesbaar.

AFDELING A (VERPLIGTEND)

VRAAG 1

30 PUNTE – 20 MINUTE

1.1 Verskeie opsies word as moontlike antwoorde op die volgende vrae gegee. Kies die antwoord en skryf slegs die letter (A–D) langs die vraagnommers (1.1.1 tot 1.1.8) in die ANTWOORDEBOEK neer, bv. 1.1.9 D.

1.1.1 Die owerheid kan inmeng om die produksie en verbruik van 'n niemerietegoed te verlaag deur ...

- A aksynsbelasting te gebruik.
- B openbaresektor-voorsiening.
- C subsidies toe te staan.
- D die implementering van 'n progressiewe belastingstelsel.

1.1.2 Advertensies en handelsmerke speel 'n sleutelrol in 'n ... mark.

- A monopolie-
- B formele
- C oligopolie-
- D monopolisties-mededingende

1.1.3 Normale wins staan ook as die ... punt in 'n volmaakte mark bekend.

- A minimum
- B gelykbreek-
- C maksimum
- D nul-

1.1.4 Sosiale koste bestaan uit die som van private en ... koste.

- A interne
- B openbare
- C eksterne
- D veranderlike

1.1.5 Ontwikkeling in mediategnologie is belangrik vir toerisme as deel van die ...-infrastruktuur.

- A vervoer
- B kommunikasie
- C energie
- D basiese dienste

1.1.6 Wanneer 'n land hoë inflasie, hoë werkloosheid en lae ekonomiese groei ondervind, word dit ... genoem.

- A disinflasie
- B deflasie
- C inflasieteiken
- D stagflasie

1.1.7 Watter EEN van die volgende is 'n fiskale maatreël om inflasie te bestry?

- A 'n Verlaging in direkte belastingheffing
- B 'n Styging in produktiwiteit
- C 'n Verlaging in owerheidsbesteding
- D Verhoogde invoerbeheer

1.1.8 Die ontwikkeling van omgewingsvriendelike tegnologie verwys na ... maatreëls om volhoubaarheid te verseker.

- A markverwante
- B internasionale
- C vrywillige
- D owerheids-

(8 x 2) (16)

1.2 Kies 'n beskrywing uit KOLOM B wat by 'n item in KOLOM A pas. Skryf slegs die letter (A–I) langs die vraagnommers (1.2.1 tot 1.2.8) in die ANTWOORDEBOEK neer.

KOLOM A	KOLOM B
1.2.1 Kort termyn	A besoek 'n land om plekke van argeologiese belang, soos die Kangogrotte, te sien
1.2.2 Marginale koste	B die produksietydperk waar ten minste een produksiefaktor vas bly
1.2.3 Direkte beheer	C 'n tarief wat op die produksie van produkte gehef word wat eksterne omgewingskoste veroorsaak
1.2.4 Maksimum pryse	D die uitgawe aangegaan om 'n ekstra eenheid te produseer
1.2.5 Klimaatsverandering	E die meting van die produksiekoste van goedere met tyd
1.2.6 Paleo-toerisme	F opoffering van een goed vir 'n ander een
1.2.7 Produksieprys-indeks	G owerheid meng in om goedere meer bekostigbaar te maak
1.2.8 Groen belasting	H wetsontwerpe wat deur die owerheid aangeneem word om negatiewe eksternaliteite te reguleer wat deur besighede veroorsaak is
	I 'n aansienlike en volgehoue verandering in die normale weerpatoon

(8 x 1) (8)

- 1.3 Gee EEN term vir elk van die volgende beskrywings. Skryf slegs die term langs die vraagnommers (1.3.1 tot 1.3.6) in die ANTWOORDEBOEK neer. Afkortings, akronieme en voorbeelde sal NIE aanvaar word NIE.
- 1.3.1 Wanneer dit onmoontlik is om die welvaart van een individu te verhoog sonder om iemand anders te benadeel
- 1.3.2 Die punt waar die marginale koste of gemiddelde inkomste aan die gemiddelde veranderlike koste gelyk is
- 1.3.3 Waar goedere onwettig aangekoop en verkoop word
- 1.3.4 Die aktiwiteite van mense wat vir nie meer as 'n jaar nie buite hul gewone omgewing reis
- 1.3.5 Tipe inflasie waar pryse van goedere en dienste deur die owerheid vasgestel word
- 1.3.6 Die storting van afvalmateriaal in die omgewing wat die ekosisteem beskadig (6 x 1) (6)
- TOTAAL AFDELING A: 30**

AFDELING B

Beantwoord enige TWEE van die drie vrae in hierdie afdeling in die ANTWOORDEBOEK.

VRAAG 2: MIKRO-EKONOMIE**40 PUNTE – 30 MINUTE**

2.1 Beantwoord die volgende vrae.

2.1.1 Gee TWEE voorbeelde van eksplisiete koste vir 'n firma. (2 x 1) (2)

2.1.2 Hoekom word monopolistiese mededinging as 'n *hibriede* struktuur beskou? (1 x 2) (2)

2.2 Bestudeer die spotprent hieronder en beantwoord die vrae wat volg.



[Aangepas uit Google Images]

2.2.1 Identifiseer die tipe monopolie wat in die spotprent hierbo uitgebeeld word. (1)

2.2.2 Wat is die aard van die produk wat deur monopolieë aangebied word? (1)

2.2.3 Beskryf kortliks die term *patent* soos dit in Ekonomie gebruik word. (2)

2.2.4 Hoe verskil die helling van 'n monopolis se vraagkromme van dié van 'n monopolistiese mededinger? (2)

2.2.5 Hoekom vind staatsbeheerde monopolieë in Suid-Afrika dit moeilik om 'n ekonomiese wins te maak? (2 x 2) (4)

2.3 Bestudeer die inligting hieronder en beantwoord die vrae wat volg.

MARKMISLUKKING – Owerheid Meng In	
<p>Daar is baie oorsake van markmislukking, soos ekster-naliteite, merietegoedere en ongelyke verdeling van inkome.</p> <p>Die owerheid het in Januarie 2019 ingemeng om ongelyke verdeling van inkome te oorbrug en 'n <i>nasionale minimum loon</i> aangekondig. Hierdie aankondiging is deur Cosatu en die Federasie van Unies van Suid-Afrika ondersteun.</p> <p>[Aangepas uit <i>FIN24</i>, 1 Januarie 2019]</p>	

- 2.3.1 Noem EEN tipe ondoeltreffendheid wat deur markmislukking veroorsaak word. (1)
- 2.3.2 Gee EEN regstellende beleid wat die owerheid gebruik om inkomste te herverdeel. (1)
- 2.3.3 Beskryf kortliks die term *merietegoedere*. (2)
- 2.3.4 Hoekom lei 'n negatiewe ekternaliteit tot die oorproduksie van goedere en dienste? (2)
- 2.3.5 Verduidelik die negatiewe gevolge van minimum lone vir die ekonomie. (2 x 2) (4)
- 2.4 Trek 'n volledig benoemde grafiek om die ekonomiese verlies in 'n monopolie-markstruktuur te toon. (8)
- 2.5 Evalueer die impak van *produsentesubsidies* deur die owerheid op die sakesektor. (8)
- [40]**

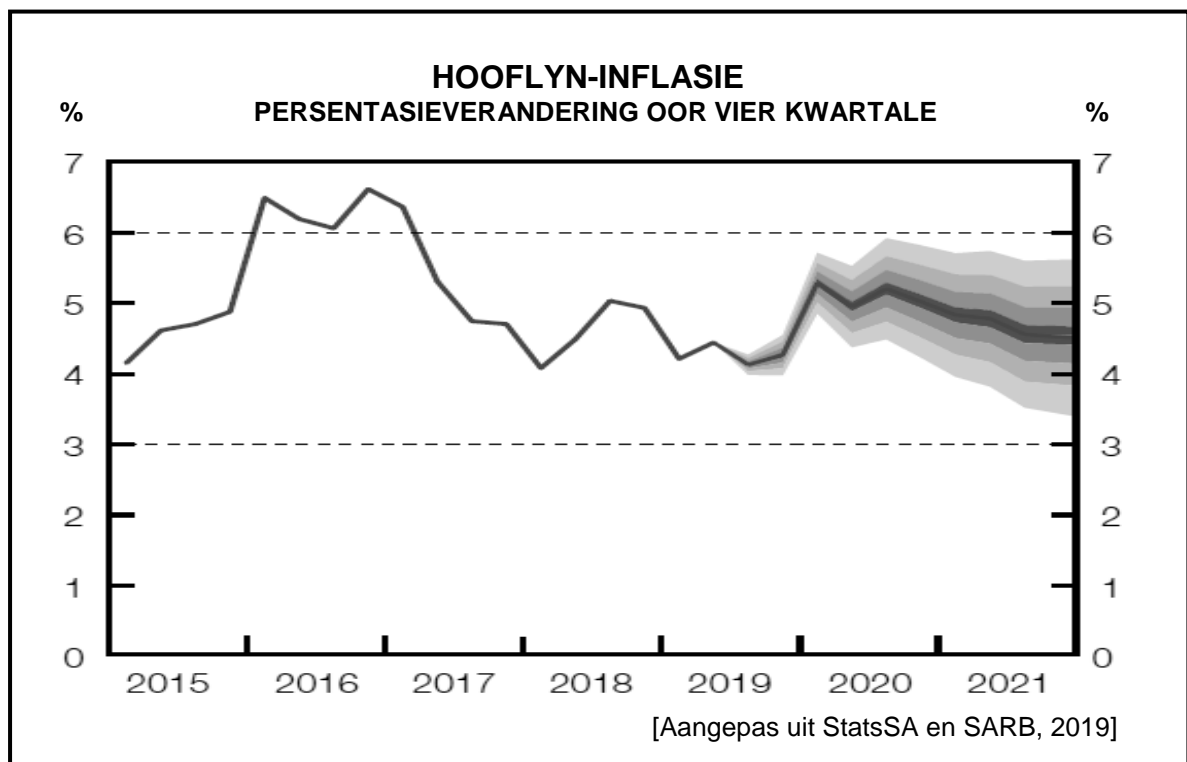
VRAAG 3: KONTEMPORÊRE EKONOMIESE KWESSIES 40 PUNTE – 30 MINUTE

3.1 Beantwoord die volgende vrae.

3.1.1 Gee TWEE voorbeelde van Wêrelderfenisterreine in Suid-Afrika. (2 x 1) (2)

3.1.2 Hoe kan die toerismesektor help om armoede onder die plaaslike mense in die gemeenskap te verminder? (1 x 2) (2)

3.2 Bestudeer die grafiek hieronder en beantwoord die vrae wat volg.



3.2.1 Waarna verwys die TWEE stippellyne in die grafiek? (1)

3.2.2 Gedurende watter jaar sal die Monetêre Beleidskomitee meer waarskynlik die terugkoop(-repo)koers verhoog? (1)

3.2.3 Beskryf kortliks die term *hooflyn-inflasie*. (2)

3.2.4 Verduidelik die invloed van inflasieverwagtinge op verbruiks-besteding. (2)

3.2.5 Hoe sal 'n styging in belasting op toegevoegde waarde die ekonomie beïnvloed? (2 x 2) (4)

3.3 Bestudeer die uittreksel hieronder en beantwoord die vrae wat volg.

TOERISME STAAN VOOR UITDAGINGS

Uitstallers het gedurende die 2018 Afrika-Reis-Indaba, wat in Durban gehou is, gekla dat township-toerisme hoë misdaadkoerse, 'n gebrek aan sekuriteit en befondsing moes trotseer.

Opkomende besighede in die bedryf ondervind ekonomiese agterstand en bemerkingsuitdagings, en alhoewel 'n verswakte rand internasionale toeriste aangemoedig het om na Suid-Afrika te reis, besoek slegs 5% van die wêreld se toeriste Afrika.

SAToerisme het versoek dat die owerheid nie moet probeer om die bedryf te bestuur nie, maar eerder ruimte vir besigheid moet skep waarbinne hulle suksesvol kan funksioneer.

[Aangepas uit @SABCNewsOnline, 2019]

- | | | |
|-------|---|-------------|
| 3.3.1 | Gee die term wat gebruik word om toeriste uit 'n ander land wat Suid-Afrika besoek, te beskryf. | (1) |
| 3.3.2 | Noem EEN doelwit van toerisme. | (1) |
| 3.3.3 | Beskryf kortliks die term <i>inheemse kennis</i> . | (2) |
| 3.3.4 | Hoekom is bemerking as 'n toerismebeleid belangrik? | (2) |
| 3.3.5 | Hoe kan toerisme 'n negatiewe invloed op die omgewing hê? | (4) |
| | (2 x 2) | |
| 3.4 | Verduidelik kortliks die voordele van toerisme vir die huishouding. | (8) |
| | (4 x 2) | |
| 3.5 | Hoe sal die verbruikersprysindeks die ekonomie beïnvloed? | (8) |
| | | [40] |

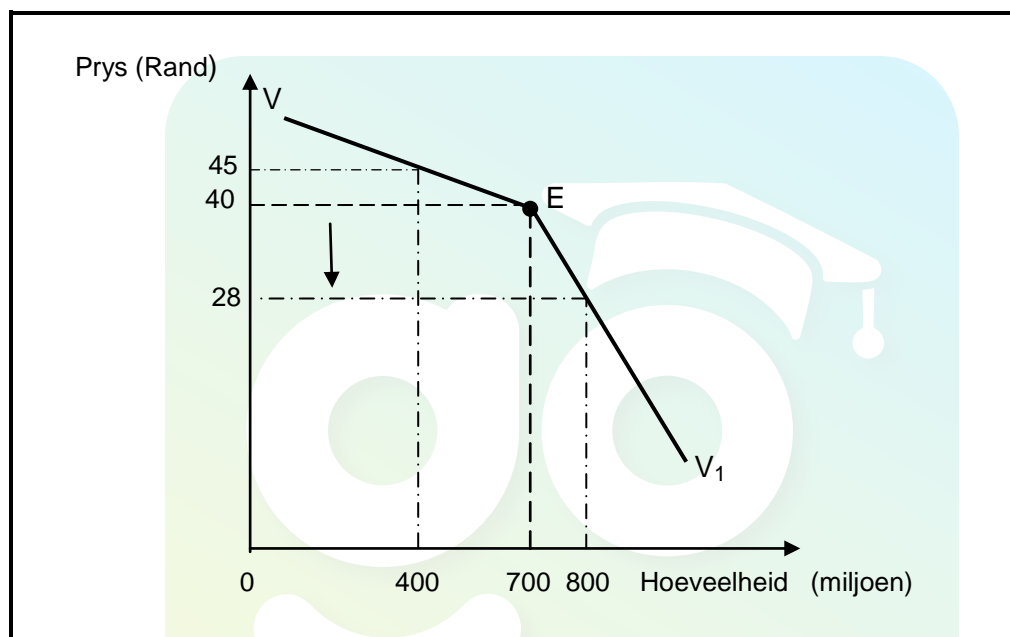
VRAAG 4: MIKRO-EKONOMIE EN KONTEMPORÊRE EKONOMIESE KWESSIES
40 PUNTE – 30 MINUTE

4.1 Beantwoord die volgende vrae.

4.1.1 Noem TWEE instellings wat vir die regulering van mededinging in Suid-Afrika verantwoordelik is. (2 x 1) (2)

4.1.2 Hoekom sal hoë inflasie tot aflegging by die werksplek lei? (1 x 2) (2)

4.2 Bestudeer die grafiek hieronder en beantwoord die vrae wat volg.



4.2.1 Identifiseer die *onelastiese deel* van die vraagkromme. (1)


4.2.2 Benoem die vraagkromme hierbo. (1)

4.2.3 Beskryf kortliks die term *stilswyende samespanning*. (2)

4.2.4 Hoe verskil die wins van 'n oligopolie van die wins van 'n monopolistiese mededinger op lang termyn? (2)

4.2.5 Hoekom sal die produsent onwillig wees om die prys van R40,00 na R28,00 te verlaag? Toon ALLE berekeninge. (2 x 2) (4)

4.3 Bestudeer die spotprent hieronder en beantwoord die vrae wat volg.



[Aangepas uit Google Images]

- 4.3.1 Noem die Suid-Afrikaanse instelling wat vir die bestryding van inflasie verantwoordelik is. (1)
- 4.3.2 Watter denkskool glo dat inflasie deur die totale geldaanbod beïnvloed word? (1)
- 4.3.3 Beskryf kortliks die term *hiperinflasie*. (2)
- 4.3.4 Hoe sou die koste van ingevoerde *sleutelinsette* tot 'n hoër inflasiekoers bydra? (2)
- 4.3.5 Hoekom is 'n monetêre beleid effektief met die verlaging van vraagtrek-inflasie? (2 x 2) (4)
- 4.4 Verduidelik kortliks die redes vir 'n koste-voordeelanalise. (4 x 2) (8)
- 4.5 Hoekom is investering in toerisme vir die ekonomie belangrik? (8)

[40]**TOTAAL AFDELING B: 80**

AFDELING C

Beantwoord enige EEN van die twee vrae in hierdie afdeling in die ANTWOORDEBOEK.

Jou antwoord sal soos volg geassesseer word:

STRUKTUUR VAN OPSTEL	PUNTE-TOEKENNING
Inleiding Die inleiding is 'n laerorde-antwoord. <ul style="list-style-type: none"> • 'n Goeie begin is om die sleutelkonsep wat met die vraagonderwerp verband hou, te definieer of te omskryf. • Moet NIE enige deel van die vraag by die inleiding insluit NIE. • Moet NIE enige gedeelte van die inleiding in die liggaam herhaal NIE. • Vermy enige bespreking van die liggaam in die inleiding. 	Maks. 2
Liggaam Hoofgedeelte: Bespreek in besonderhede/Diepgaande bespreking/Onderzoek/Bespreek krities/Vergelyk/Oonderskei/Differensieer/Verduidelik/Assesseer/Debatteer/Trek 'n grafiek en verduidelik/Gebruik die gegewe grafiek en verduidelik/Voltooi die gegewe grafiek Addisionele gedeelte: Gee eie mening/Bespreek krities/Evalueer/Evalueer krities/Lei af/Vergelyk/Oonderskei/Interpreteer/Debatteer kortliks/Hoe/Stel voor/Analiseer	Maks. 26 Maks. 10
Slot Enige hoërorde-slot moet die volgende insluit: <ul style="list-style-type: none"> • 'n Kort samevatting van dit wat bespreek is, sonder herhaling van enige feite wat reeds genoem is • Enige opinie of waardeoordeel oor die feite wat bespreek is • Addisionele ondersteunende inligting wat die bespreking/ontleding versterk • 'n Teenstrydige sienswyse met motivering, indien gevra • Aanbevelings 	Maks. 2
TOTAAL	40

VRAAG 5: MIKRO-EKONOMIE**40 PUNTE– 40 MINUTE**

- Bespreek volledig, sonder die gebruik van grafieke, volmaakte mededinging as 'n markstruktuur. (26 punte)
- Evalueer die mededingingsbeleid in die bevordering van 'n meer mededingende ekonomie. (10 punte)

[40]**VRAAG 6: KONTEMPORÊRE EKONOMIESE KWESSIES 40 PUNTE – 40 MINUTE**

- Bespreek die belangrikste omgewingsprobleme wat lande wêreldwyd beïnvloed. (26 punte)
- Evalueer die sukses van die internasionale maatreëls wat aangeneem is om omgewingsprobleme aan te pak. (10 punte)

[40]

TOTAAL AFDELING C: 40
GROOTTOTAAL: 150